

Шифр

10	-	01																
----	---	----	--	--	--	--	--	--	--	--	--	--	--	--	--	--	--	--

**Всероссийская олимпиада школьников по географии  
школьный этап 2022-2023 учебный год**

**10 класс**

**ЛИСТ ОТВЕТОВ**

Участник олимпиады	
Фамилия	Ершова
Имя	София
Отчество	Владимировна

16.08.2006

**Баллы**

№ задания	1	2	3	4	Тесты
Количество баллов	5,5	3	5,5	6	12,5
Подпись члена жюри	<i>[Signature]</i>	<i>[Signature]</i>	<i>[Signature]</i>	<i>[Signature]</i>	<i>[Signature]</i>
Сумма баллов и подпись председателя	32,5				

Шифр

10 - 01

**Всероссийская олимпиада школьников по географии  
школьный этап 2022-2023 учебный год**

**10 класс**

**Бланк ответов учащегося для заданий тестового тура**

№ вопроса	Правильный ответ (элементы ответа)
1.	Г 0
2.	А-3, Б-2, В-4, Г-1 2
3.	Б 0
4.	Б 1
5.	А 0
6.	Б 1
7.	В 0
8.	Б, Г 1
9.	Г 0
10.	Б 1
11.	В 0
12.	Б, В 1
13.	А 0
14.	А 0
15.	А 1
16.	Б 0
17.	Б 0
18.	Г 1
19.	А 1
20.	А-1, Б-2, В-4, Г-5, Д-3 2,5

12,5

Шифр

10 - 0 /

## Теоретический тур

## Задание № 1. «Родина футбольных клубов»

№	Ответ	
	Клуб	Город
1.	«Шинник»	Ярославль 0,5 + 0,5
2.	«Арсенал»	Тюль / ВПК 0,5 + 0,5
3.	«Нефтехимик»	Кинешемск 0,5 Нефтехим. завод 0,5
4.	«Уралмаш»	Молитогорск 0 завод Уралмаш 0,5
5.	«Океан»	Находка - порт 0,5 + 0,5
6.	«Металлург»	Итаткеватюрск 0
7.	«Самотлор»	Екатеринбург 0
8.	«КамАЗ»	Новоуренский цех 0,5
9.	«Енисей»	Красноярск 0,5
10.	«Алания»	Владикавказ 0,5

5,5

Шифр

10	-	0	/																
----	---	---	---	--	--	--	--	--	--	--	--	--	--	--	--	--	--	--	--

**Задание № 2. «Историческая география»**





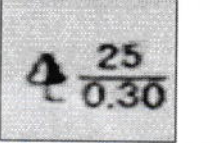
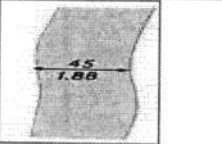

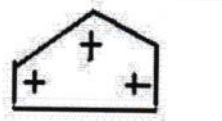
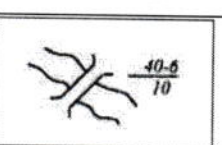

№		Ответ
1.	Запишите имя натуралиста, о котором говорится в Указе президента РФ?	В.К. Арсеньев 1
2.	Какую горную систему на территории Хабаровского края изучал путешественник?	Сикотэ-линь 1
3	В качестве кого совершил первые свои экспедиции по югу Дальнего Востока?	Ученый 0
4	Кто был кумиром путешественника, очерки которого были первыми настольными книгами об Уссурийском крае?	Оталли, Тривевайский 1
5	Чтобы сохранить муку в тайге от сырости нужно мешок с мукой ....	—

30

Шифр

10	-	01																		
----	---	----	--	--	--	--	--	--	--	--	--	--	--	--	--	--	--	--	--	--

Задание № 3. «Топографическое»

Условный знак на топографической карте	Название условного знака (цифровые обозначения)	Номер объекта на Рисунке (если обозначен)
	<del>лес</del>	<del>1</del>
	—	—
	вырубленный лес	— 0,5
	—	2 0,5
	<del>лес</del> дерево	1 0,5 + 0,5
	Река	4 1
	луга	3 1
	церковь	<del>1</del>
	мост	5 1
	<u>двойное дерево</u>	0,5

5,5

Шифр

10	-	01																		
----	---	----	--	--	--	--	--	--	--	--	--	--	--	--	--	--	--	--	--	--

Задание № 4. «Путешествие по Транссибу»

№	Город	Реки	Природная зона	Субъект РФ	Экономический район
1.	Ярославль	Волга	—	Ярославская область	Уральский
2.	Тереньки	Ильма	—	Теренькинский край	Уральский
3.	Новосибирск	Обь	—	Новосибирская область	Восточно-Сибирский
4.	Минусинск	Саяны	Степная	Западно-Сибирский край	Западно-Сибирский
5.	Дальнегорск	—	Широколиственный лес	ЕАО	Дальневосточный
6.	Хабаровск	Амур	Уссурийская тайга	Хабаровский край	Дальневосточный

1,5

1,25

0,75

1,25

4,75

60